



# ТЕСТЫ «ЛЕТНИЕ КАНИКУЛЫ» ДЛЯ 7-8 ЛЕТ



# РУССКИЙ ЯЗЫК

## Алфавит



Сколько гласных букв в алфавите? \_\_\_\_\_



Сколько согласных букв в алфавите? \_\_\_\_\_

Сколько звуков в алфавите? \_\_\_\_\_

Сколько гласных звуков в алфавите? \_\_\_\_\_

Сколько согласных звуков в алфавите? \_\_\_\_\_




Больше заданий на


<https://alimok.com/ru/disciplina/gramota>

<https://alimok.com/ru/kategoriya/izuchaem-azbuku1>

<https://alimok.com/ru/kategoriya/izuchaemalfavit2>

1. Запиши названия морских обитателей в пустые окошки.  
Правильно расставь ударения и подели на слоги.













(c) Alimok.com

2. Внимательно посмотри на картинки слева и схемы справа.  
Правильно запиши названия элементов на свои места.


 и |  е |   а

 а |   а

 у |  а |   а

  и |  а

 е   |  и 

(c) Alimok.com

Больше заданий на  
<https://alimok.com/ru/kategoriya/udarenie>  
<https://alimok.com/ru/kategoriya/slogi>

3. Сколько звуков в слове? Сколько гласных? Сколько согласных? Сосчитай и запиши.

**АНАНАС**

звуков -   
согласных -   
гласных -

**МЕДВЕДЬ**

звуков -   
согласных -   
гласных -

**ЮЛА**

звуков -   
согласных -   
гласных -

**МЫШЬ**

звуков -   
согласных -   
гласных -

**ПИЛА**

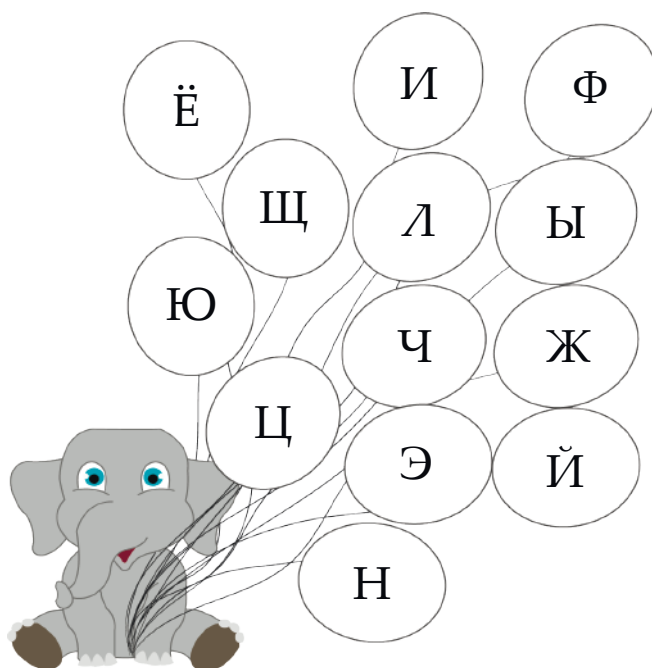
звуков -   
согласных -   
гласных -

**ДЕРЕВО**

звуков -   
согласных -   
гласных -

(c) Alimok.com

4. Закрась шарики с согласными жёлтым цветом, а гласные фиолетовым цветом.



(c) Alimok.com

Больше заданий на

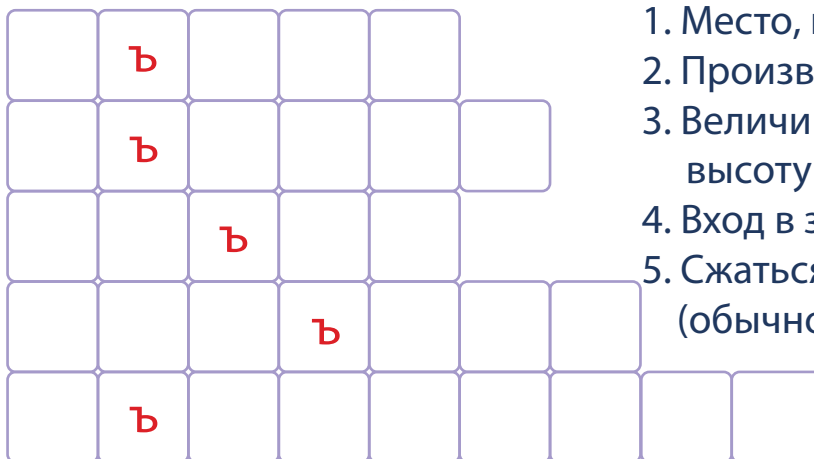
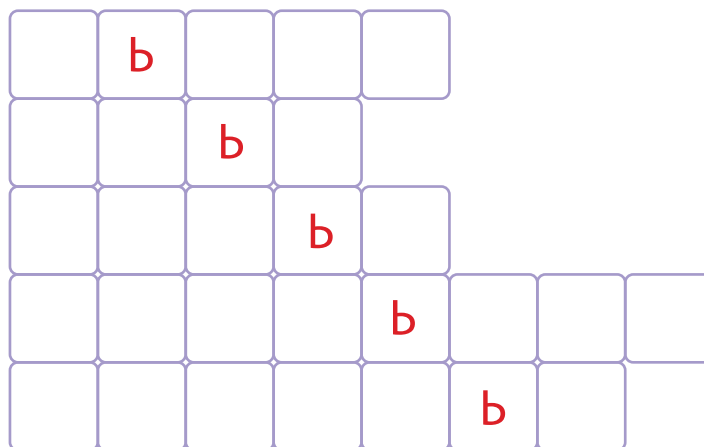
<https://alimok.com/ru/disciplina/gramota>

<https://alimok.com/ru/kategoriya/zvuki-i-bukvy-glasnye-i-soglasnye>


5. Перед тобой кроссворды.

Впиши слова с разделительным «Ь» и «Ъ» знаком.

1. Снежная буря
2. Домики для пчёл
3. Мать, отец, дети
4. Животное
5. Ягоды, сваренные в сахаре

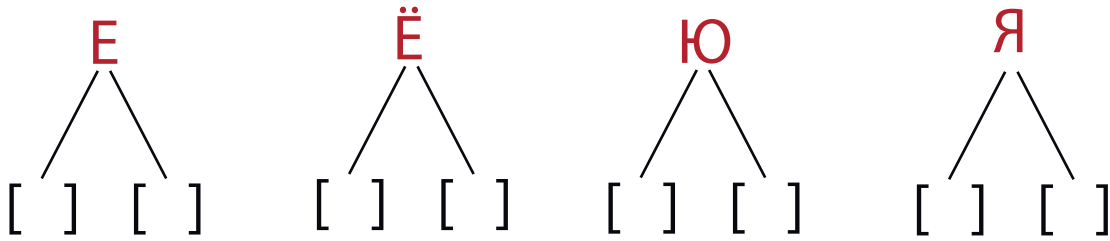


1. Место, где въезжают машины
2. Производство фильма
3. Величина чего-нибудь в длину, высоту и ширину
4. Вход в здание
5. Сжаться всем телом, ссутулиться (обычно при ощущении холода)



раскрась

6. Напиши, какие 2 звука могут обозначать эти буквы.



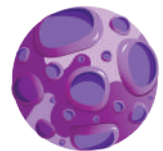
7. Найди ошибку в правиле и запиши правильно.

Буквы **е, ё, ю, я** обозначают 2 звука в начале слова, после согласной, после **ь, ъ** знаков.

---

---

---



8. Назови картинку. Произнеси все звуки каждого слова. Напиши их в пустое окошко.



(c) Alimok.com

Больше заданий на  
<https://alimok.com/ru/disciplina/gramota>

9. Какие предложения подходят к указанным схемам?  
Запиши их.

1. Папа смотрит телевизор
2. Мальчик катается на роликах
3. Пришла весна
4. Маша рисует красками
5. Темнеет



1.     .

\_\_\_\_\_


2.  .

\_\_\_\_\_

10. Найди в тексте 5 орфографических ошибок. Озаглавь  
и спиши текст правильно.

Ученики нашего класса ходили в зоопарк. Они видели много  
зверей. На солнце грелись лвица с маленьким львенком.  
Заяц и зайчиха грызли капусту. Волчица с волчатами спали.  
Медленно ползала черепаха с большим панцирем. Девочкам  
очень понравилась лисица.

\_\_\_\_\_



\_\_\_\_\_

\_\_\_\_\_

\_\_\_\_\_

\_\_\_\_\_

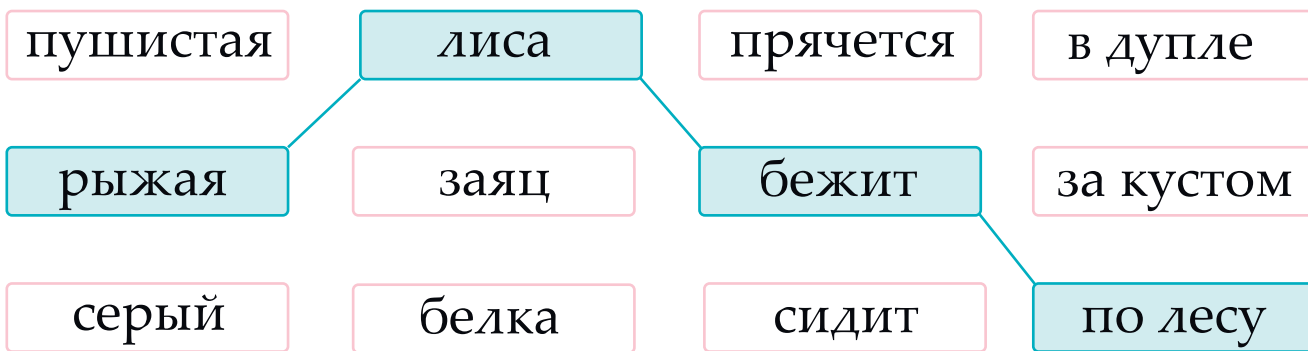
\_\_\_\_\_

Больше заданий на  
<https://alimok.com/ru/disciplina/gramota>  
<https://alimok.com/ru/kategoriya/predlozhenie>

11. Составь предложения с указанными словами и поставь вопросы от одного слова к другому. Соедини подходящие слова стрелками и запиши предложения.



Пример: лиса (что делает?) бежит  
лиса (какая?) рыжая  
бежит (где?) по лесу




Рыжая лиса бежит по лесу .  
\_\_\_\_\_  
\_\_\_\_\_

Больше заданий на  
<https://alimok.com/ru/disciplina/gramota>  
<https://alimok.com/ru/kategoriya/glavnye-chleny-predlozhenijai>



раскрась





12. Соедини линиями названия частей речи и их значения.

Имя существительное

признак предмета

Имя прилагательное

действие предмета

Глагол

предмет

(c) Alimok.com

13. Прочитай текст.

Выпиши из текста сначала одушевлённые имена существительные, потом неодушевлённые. Перед каждым именем существительным запишите вопрос, на который оно отвечает.

*Зимний лес. Поляна. Пролетела хохлатая птичка в красивом пёстром платице. Это сойка. Сойка может перенимать любой голос: свистеть, как рябчик, стрекотать, как сорока, ворковать, как голубь.*

---

---

---

---

---

---

---

---

Больше заданий на

<https://alimok.com/ru/disciplina/gramota>

<https://alimok.com/ru/kategoriya/imja-suschestvitelnoe>

14. Подбери к этой картинке подходящие имена прилагательные и обведи их.



15. Какой признак подходит к этим литературным героям.



- злая
- красивая
- справедливая

- сердитый
- строгий
- добрый



(c) Alimok.com

Больше заданий на

<https://alimok.com/ru/disciplina/gramota>

<https://alimok.com/ru/kategoriya/imja-prilagatelnoe>

16. Рассмотри рисунки.



Что делает мальчик? Назови слова, обозначающие действия мальчика.

---

На какой вопрос отвечают эти слова? К какой части речи они относятся.

---

Составь предложение по одному из рисунков. Запиши его. Подчеркни слово, обозначающее действие предмета.

---

---

---

(c) Alimok.com

Больше заданий на  
<https://alimok.com/ru/disciplina/gramota>  
<https://alimok.com/ru/kategoriya/glagol>

17. Прочитай и вставь недостающие предлоги.



(c) Alimok.com

Рыхлый снег темнеет ... марте.  
Тают льдинки ... окне.  
Зайчик бегаёт ... парте  
И по карте ... стене.

(С.Я.Маршак)



17. Найди скороговорки и отметь их.

- Карл у Клары украл кораллы, а Клара у Карла украла кларнет.
- Волков бояться - в лес не ходить.
- На скорую руку.
- На дворе трава, на траве дрова, не руби дрова на траве двора.
- Кто не работает, тот не ест.

Больше заданий на


<https://alimok.com/ru/disciplina/gramota>

<https://alimok.com/ru/kategoriya/predlogi-gramota>

# МАТЕМАТИКА

1. Реши задачу. Запиши правильный вариант ответа.


Гюнай нарисовала 8 раз по 10 сердечек, а потом добавила ещё десяток. Какое число сердечек получилось у Гюнай?



Ответ:

(c) Alimok.com


2. 4 десятка бусинок – сколько это бусинок?




Ответ:

(c) Alimok.com

3. Мальчик заблудился. Ему нужно свернуть на шестнадцатую улицу. Выбери эту улицу и закрась флажок синим цветом.




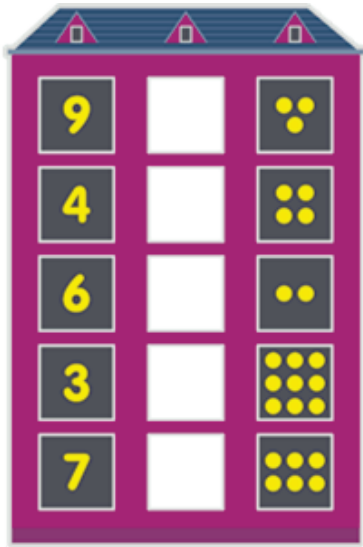
4. Тимур пришёл в кино. У него билет на 14 место. Выбери кресло, которое должен занять Тимур.



Больше заданий на  
<https://alimok.com/ru/disciplina/matematika>  
<https://alimok.com/ru/kategoriya/schet-do-1>  
<https://alimok.com/ru/kategoriya/poradkoviy-schet>



5. Расставь знаки ">", "<", "=".



6. Заполни таблицу сложения. Запиши числа в свои ячейки.

**19; 15; 16; 20; 17; 11; 14**



+	3	5	9
10	13		
8		13	
11			

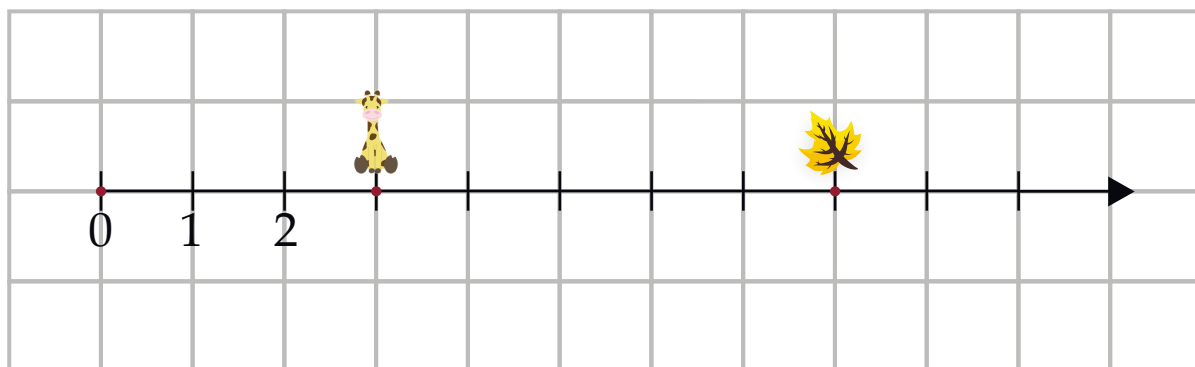
Больше заданий на

<https://alimok.com/ru/disciplina/matematika>

<https://alimok.com/ru/kategoriya/znaki-bolshe-menshe-ravno>

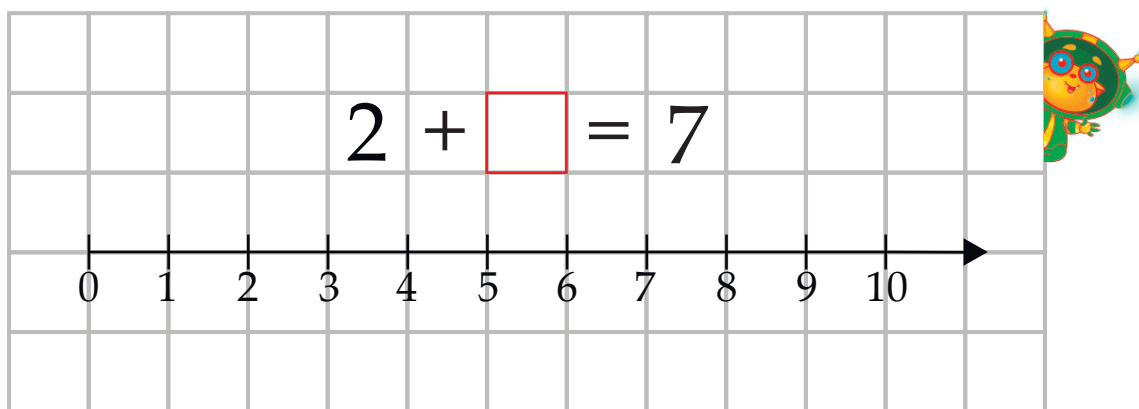
<https://alimok.com/ru/kategoriya/slozhenie-i-vychitanie-v-predelah-100-1>

7. Сколько шагов должен сделать жираф, чтобы взять листочек?


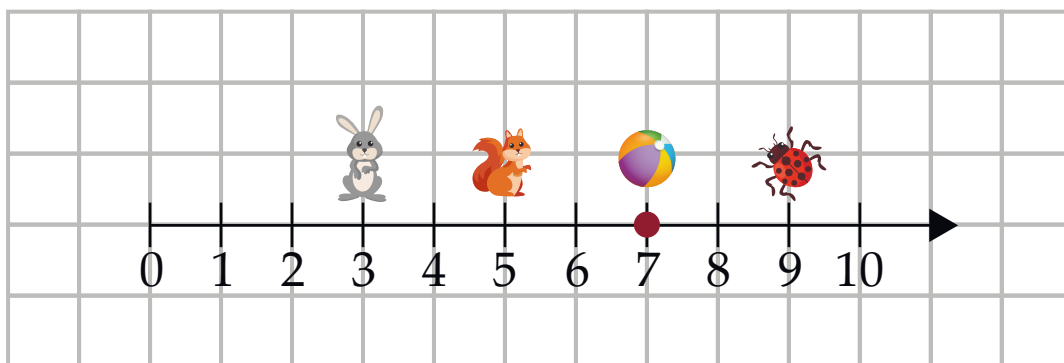


Ответ: \_\_\_\_\_ .

8. Чему равно неизвестное слагаемое?



9. Каждый прыжок зайца на числовой оси равен двум шагам вперёд, прыжок белки - одному шагу вперёд, а жук - одному шагу назад. Сколько прыжков должен сделать каждый из них от точки, на которой он находится, чтобы добраться до мяча?







10. Реши задачу.

Когда петух стоит на двух ногах, то он весит четыре килограмма. Сколько будет весить петух, если он встанет на одну ногу?

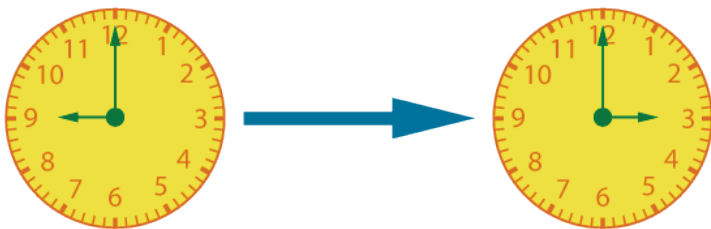
Решение


(c) Alimok.com

Ответ: \_\_\_\_\_ .

11. Реши задачу.

Путешествие на машине началось в тот момент, который показывают левые часы. А закончилось в тот момент, который показывают правые часы. Сколько времени продолжалось путешествие?



Ответ: \_\_\_\_\_ .

Больше заданий на

<https://alimok.com/ru/disciplina/matematika>


<https://alimok.com/ru/kategoriya/reshenie-slozhnyh-zadach>

<https://alimok.com/ru/kategoriya/vremya-chasi-1>


12. Составь примеры на основе указанных схем.

$\square + \square = \square$   
 $\square + \square = \square$   
 $\square - \square = \square$   
 $\square - \square = \square$

9



10




$\square + \square = \square$   
 $\square + \square = \square$   
 $\square - \square = \square$   
 $\square - \square = \square$

13. Прямоугольник, у которого длина 12 см и ширина 6 см поделили на два равных квадрата. Чему равен периметр квадрата?

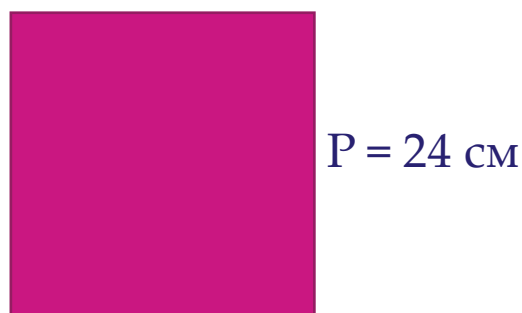


Решение




Ответ: \_\_\_\_\_ .

14. Квадрат, периметр которого равен 24 см, поделили на два равных прямоугольника. Чему равен периметр полученного прямоугольника?



Решение



Ответ: \_\_\_\_\_ .

15. Три фигуры объединили. Найди периметр полученной фигуры?



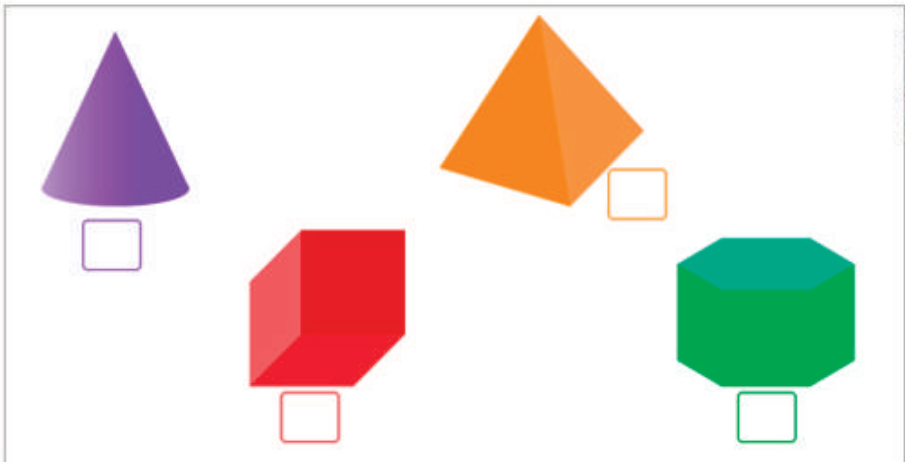
Решение


Ответ: \_\_\_\_\_ .

(c) Alimok.com

16. Выбери фигуру, которой соответствует следующее описание:

*Это фигура имеет восемь вершин и двенадцать рёбер, её грани равны между собой.*



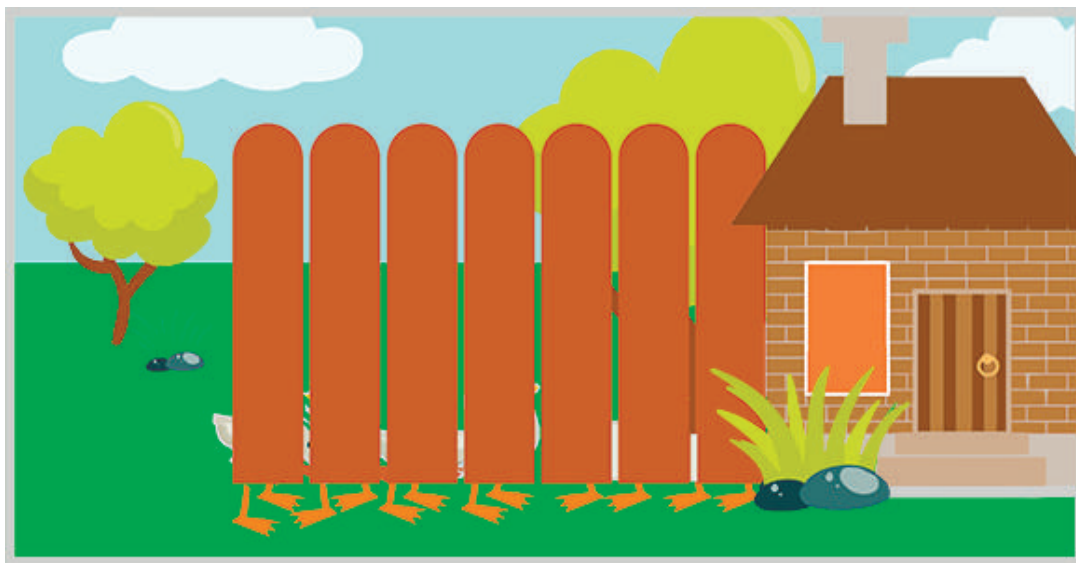
Больше заданий на  
<https://alimok.com/ru/disciplina/matematika>  
<https://alimok.com/ru/kategoriya/geometricheskie-figury>

17. Сколько яблок в каждой корзине. Запиши правильный ответ в пустые окошки



(c) Alimok.com

18. За забором пасутся гуси. Как ты думаешь, сколько гусей во дворе?



Ответ: \_\_\_\_\_ .

Больше заданий на


<https://alimok.com/ru/disciplina/matematika>

<https://alimok.com/ru/kategoriya/delenie-1>

<https://alimok.com/ru/kategoriya/umnozhenie>

19. Гюльнар измерила длину и ширину своей комнаты. Оказалось, что длина комнаты 4м 2дм 3см, а ширина 2м 6дм 2см. На сколько длина комнаты больше ширины?

Решение

Ответ: \_\_\_\_\_ .

20. Сегодня 2 августа. Али поедет в детский лагерь 7 августа. Посмотри на календарь и определи, сколько дней осталось до её поездки?

Решение

<b>08</b>		<b>АВГУСТ</b>					
ПН	ВТ	СР	ЧТ	ПТ	СБ	ВС	
					1	2	
3	4	5	6	7	8	9	
10	11	12	13	14	15	16	
17	18	19	20	21	22	23	
24	25	26	27	28	29	30	
31							


Ответ: \_\_\_\_\_ .

(c) Alimok.com

Больше заданий на  
<https://alimok.com/ru/disciplina/matematika>  
<https://alimok.com/ru/kategoriya/velichiny>  
<https://alimok.com/ru/kategoriya/calendar>

# ПОЗНАНИЕ МИРА



1. Что огорчит маму и папу?



(c) Alimok.com

2. Отгадай загадку:



У меня есть мама,  
У меня есть папа,  
У меня есть дедушка,  
У меня есть бабушка,  
А у них есть я.  
Что это?









Ответ: \_\_\_\_\_ .

Больше заданий на

<https://alimok.com/ru/disciplina/poznanie-mira>

<https://alimok.com/ru/kategoriya/moja-semja>

3. Посмотри на рисунки, что относится к живой, а что к неживой природе? Надпиши, что изображено и к какой природе относится.

 _____ _____	 _____ _____	 _____ _____	 _____ _____
 _____ _____	 _____ _____	 _____ _____	 _____ _____

(c) Alimok.com

Ответь правильно:

*Живая природа* - это \_\_\_\_\_

*Неживая природа* - это \_\_\_\_\_

Больше заданий на  
<https://alimok.com/ru/disciplina/poznanie-mira>  
<https://alimok.com/ru/kategoriya/priroda-zhivaja-i-nezhivaja>



4. Какое время года описывается в стихотворении  
*М.Пляцковского*?



Закрыли тучи синеву.  
Дождинки падают в траву.  
Чик-чик-чирик! На край земли  
Летят куда-то журавли.

Ответ: \_\_\_\_\_ .



5. Запиши шестой день недели?



(c) Alimok.com

Ответ: \_\_\_\_\_ .

Больше заданий на  
<https://alimok.com/ru/kategoriya/dni-nedeli>  
<https://alimok.com/ru/kategoriya/vremena-goda1>





5. Отгадай загадку:



Мне загадку загадали:  
Это что за чудеса?  
Руль, седло и две педали,  
Два блестящих колеса.

(c) Alimok.com

6. Кому эти предметы нужны для работы?




дворник

фермер

строитель

ветеринар

(c) Alimok.com



раскрась


Больше заданий на

<https://alimok.com/ru/disciplina/poznanie-mira>

<https://alimok.com/ru/kategoriya/transport>

<https://alimok.com/ru/kategoriya/professii>

7. Внимательно посмотри на картинку, какой знак должен стоять на дороге?



(c) Alimok.com

984c47



8. Выбери знак «Место остановки автобуса».



(c) Alimok.com


Больше заданий на

<https://alimok.com/ru/disciplina/poznanie-mira>

<https://alimok.com/ru/kategoriya/pravila-dorojnogo-dvijeniya>



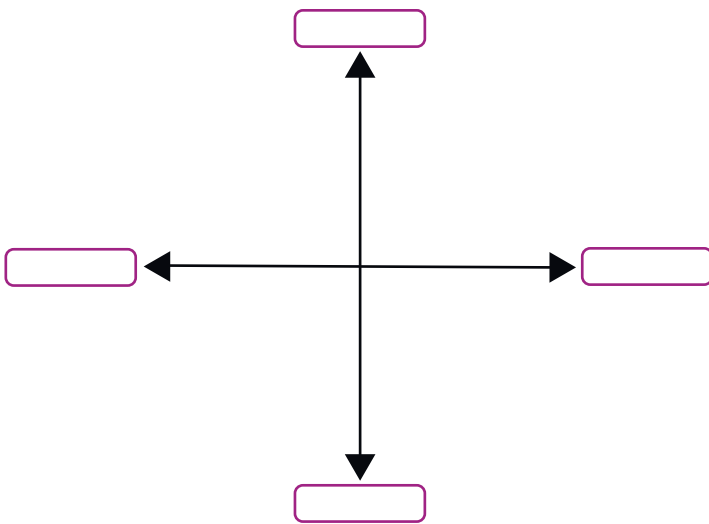
8. Какая обувь спрятана в ребусе?



(c) Alimok.com

Ответ: \_\_\_\_\_ .

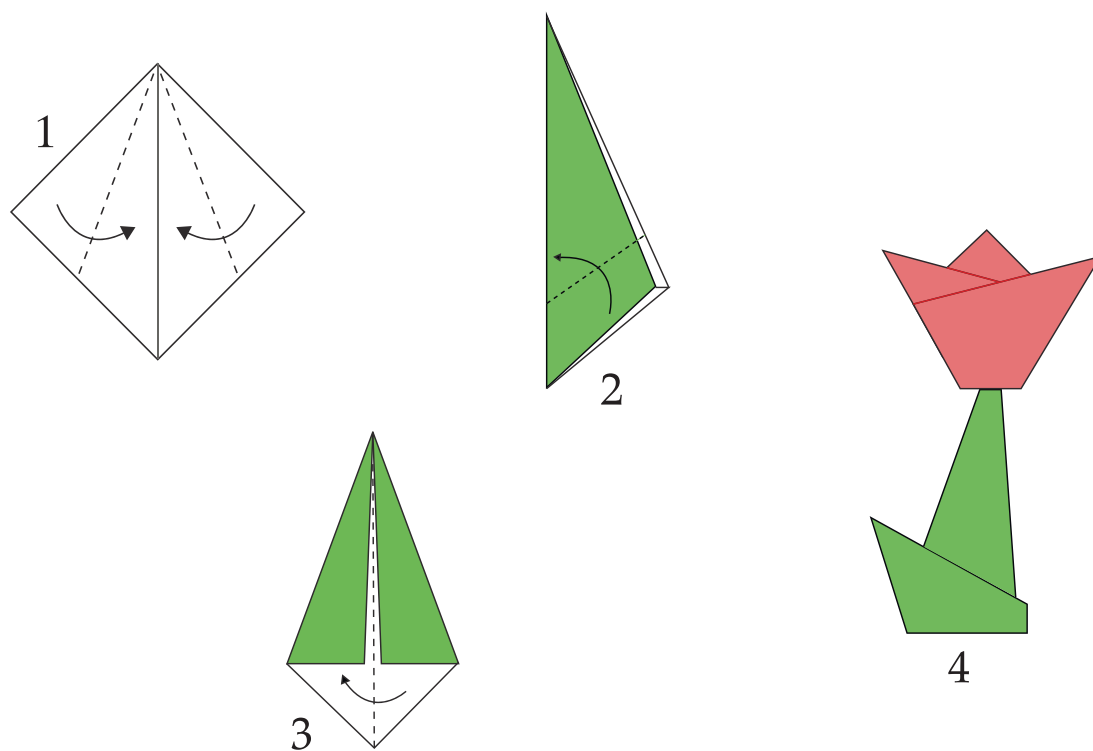
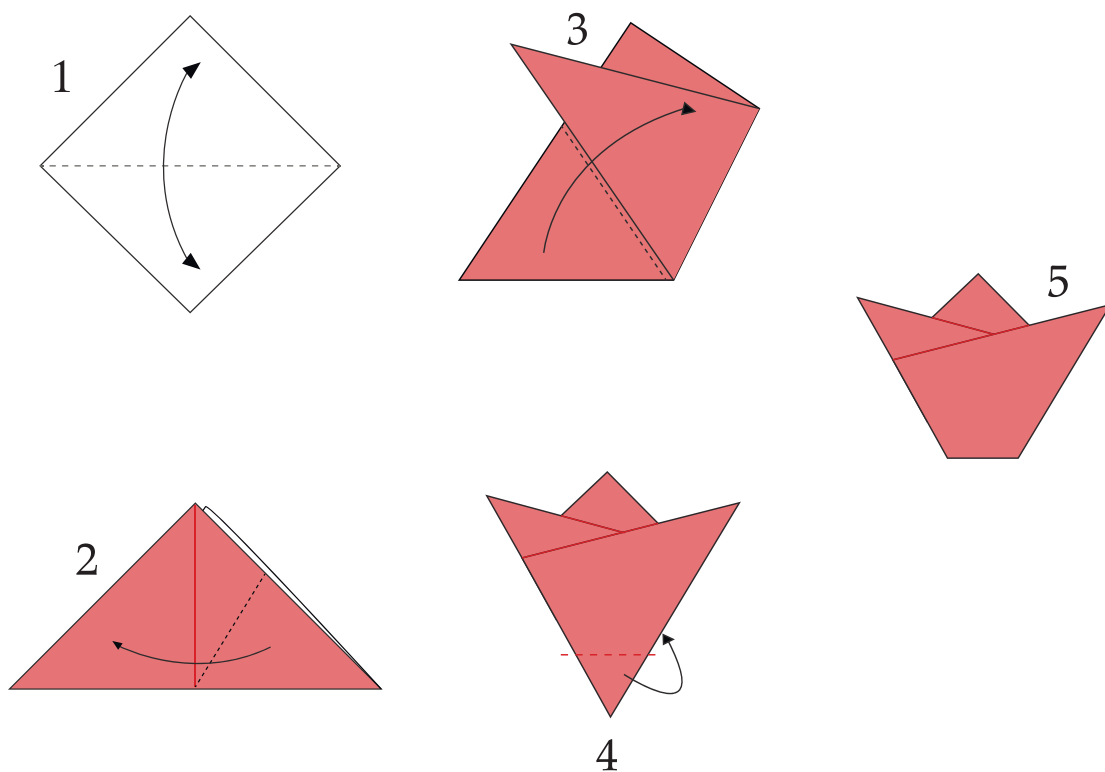
9. Правильно запиши основные стороны горизонта в пустые ячейки.



Больше заданий на  
<https://alimok.com/ru/disciplina/poznanie-mira>

раскрась

# ОРИГАМИ ДЛЯ ДЕТЕЙ



# Твой результат:

*Правильные ответы:*

Математика \_\_\_\_\_

Русский язык \_\_\_\_\_

Познание мира \_\_\_\_\_

*Неправильные ответы:*

Математика \_\_\_\_\_

Русский язык \_\_\_\_\_

Познание мира \_\_\_\_\_

*Понравились ли тебе наши задания?*



*Да, понравились*



*Нет, не понравились*

Напишите свой отзыв на нашу почту: [support@alimok.com](mailto:support@alimok.com)  
Ещё больше заданий Вы сможете найти на сайте [www.alimok.com](http://www.alimok.com)  
*Спасибо, что вы с нами! Мы растём и развиваемся для Вас*