


АЛІМОК

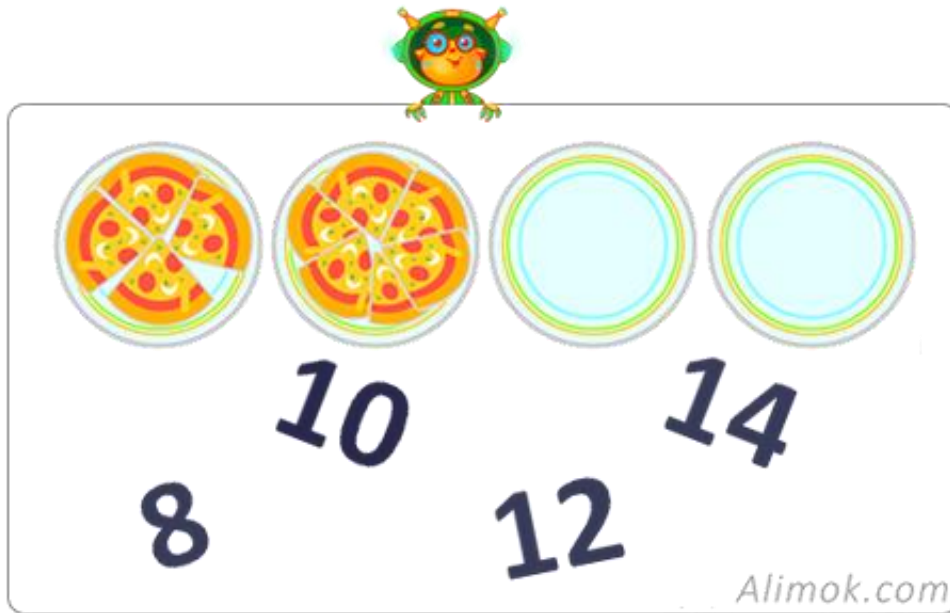
**ТЕСТЫ
"ЛЕТНИЕ КАНИКУЛЫ"**

1 класс



МАТЕМАТИКА

1. Сколько кусков пиццы будет на четвёртой тарелке, если на первой тарелке 4 куска пиццы, а на второй 6 кусков пиццы.



8 10 12 14

Alimok.com

2. Правильно соедини ёмкости в соответствии с указанными картинками.



0,5 литра



1 литр



1,5 литра



2 литра

Alimok.com

3. Какое время показывают часы на стене? Помоги Алимочку выбрать правильный ответ.



12 : 45

21 : 00

11 : 45

19 : 00

Alimok.com

Больше заданий на <https://alimok.com/ru/kategoriya/vremya-chasi-1>

4. Какие из указанных картинок измеряются граммами, а какие килограммами. Запиши правильные ответы в пустые ячейки.























Повторяем устный счёт вместе с Алимок.

5. Вычисли и найди соответствующие облака. Впиши правильные ответы на свои места.

| | | | | |
|--|---|---|--|---|
|  | $\begin{array}{r} 17 \\ + 8 \\ \hline \end{array}$  | $\begin{array}{r} 16 \\ + 8 \\ \hline \end{array}$  | $\begin{array}{r} 18 \\ + 8 \\ \hline \end{array}$  |  |
|  |  |  |  | |

Alimok.com


6. Вычисли и найди соответствующие ракеты. Впиши правильные ответы на свои места.

| | | | |
|---|---|---|---|
|  | $\begin{array}{r} \text{cloud} \\ - 6 \\ \hline 16 \end{array}$ | $\begin{array}{r} \text{cloud} \\ - 8 \\ \hline 20 \end{array}$ | $\begin{array}{r} \text{cloud} \\ - 7 \\ \hline 9 \end{array}$  |
|  |  |  | |


Alimok.com

7. Стороны квадрата равны 30-ти. Запиши недостающие числа в пустые квадратики так, чтобы результат, для каждой стороны, был равен 30-ти.


| | | |
|----|----|----|
| 25 | 10 | |
| | 10 | 17 |
| 2 | 20 | |




18




13



5




22




11

Alimok.com



8. Помоги Алимку найти разность ананаса и апельсина, согласно данному условию. Правильный ответ запиши в пустой квадратик.



= 18 + 7;




= 22 - 6


-

=

?

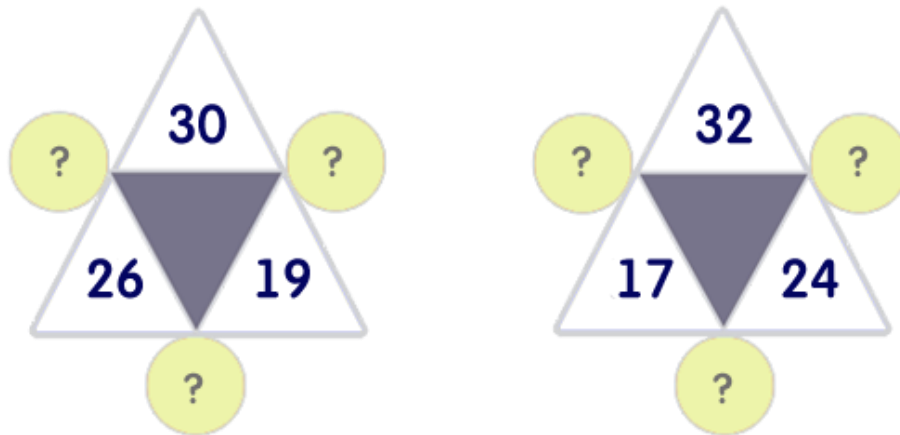
Alimok.com



Больше заданий на

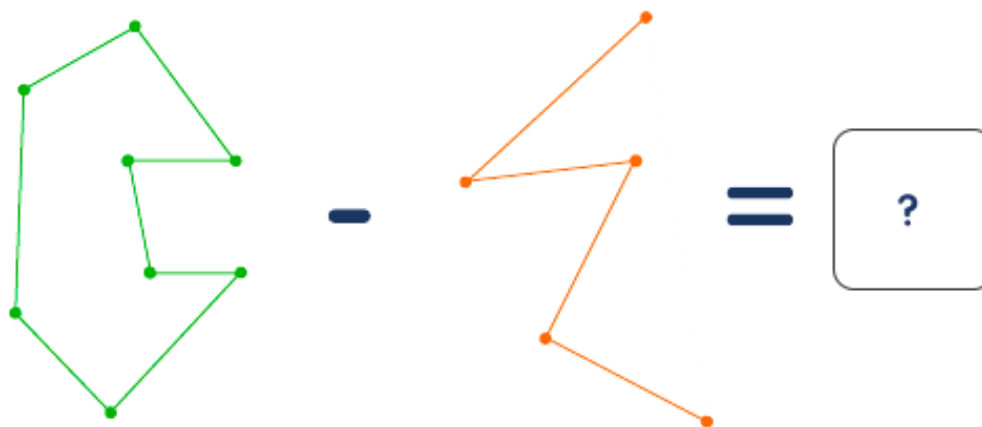
<https://alimok.com/ru/kategoriya/slozhenie-i-vychitanie-v-predelah-20>

9. Вычисли и расставь числа вместо вопросительных знаков.



Alimok.com


10. Вычисли разность вершин данных ломаных и впиши ответ в пустой квадратик.



Alimok.com

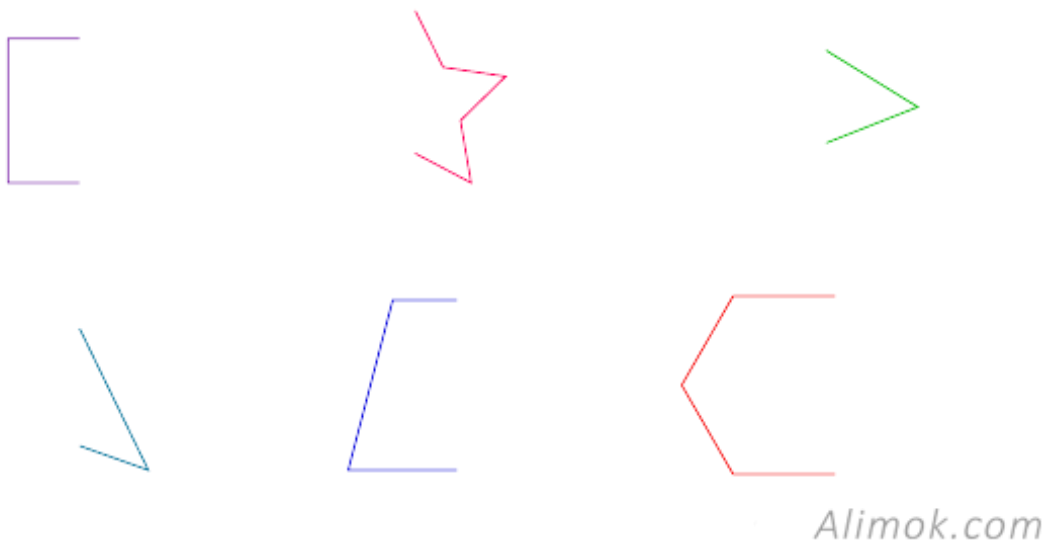
Для решения данного задания пройди по ссылке
<https://alimok.com/ru/kategoriya/lomanaya>

11. В каждом ряду выдели «лишнюю» фигуру.



Больше заданий на <https://alimok.com/ru/kategoriya/geometricheskie-figury>

12. Дорисуй недостающие части фигур так, чтобы получились симметричные фигуры.



Больше заданий на <https://alimok.com/ru/kategoriya/simmetriya-i-asimmetriya>

13. Помоги Алимочку решить уравнение. Чему равен корень уравнения?



$$x - (\triangle \triangle \square) = (\triangle \circ)$$
$$x = \square$$

Alimok.com

Для решения данного задания пройди по ссылке <https://alimok.com/ru/kategoriya/uravnenie>

14. На лестнице 11 ступенек. Саша стоит посередине лестницы. На какой по счёту ступеньке он стоит? Правильный ответ впиши в пустой квадратик.



Ответ:

Alimok.com

15. Реши задачу. Правильный ответ впиши в квадратик.

Длина бревна 6 метров. За 1 минуту от этого бревна отпиливают по 1 метру. За сколько минут будет распилено всё бревно?



Ответ:

Alimok.com

Больше заданий на <https://alimok.com/ru/kategoriya/reshenie-slozhnyh-zadach>



РУССКИЙ ЯЗЫК



Теперь ты знаешь «Алфавит» и сможешь ответить на все вопросы.

Аа Бб Вв Гг Дд Ее Ёё Жж Зз

Ии Йй Кк Лл Мм Нн Оо Пп

Рр Сс Тт Уу Фф Хх Цц Чч

Шш Щщ Ъ ъ Ы ы Ээ Юю Яя

Alimok.com

1. Разгадай зашифрованные слова, буквы видны через одну. Найди, какие гласные скрыты и впиши нужные буквы в пустые квадратики.



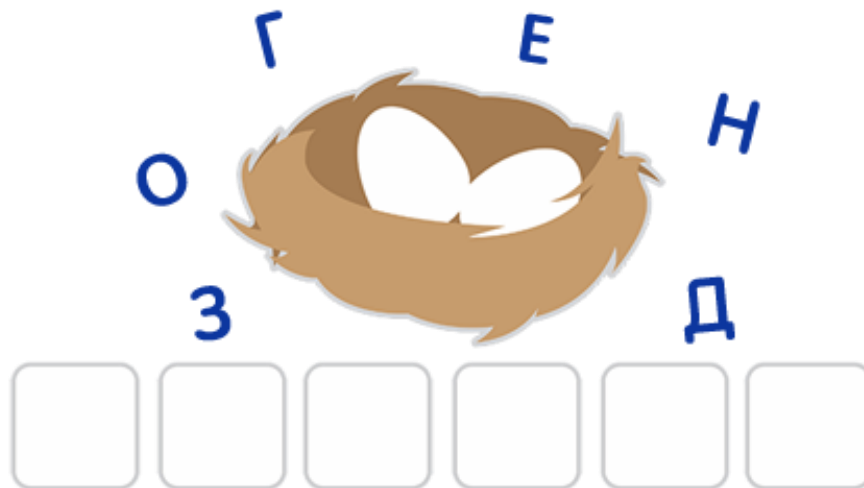
| | | | | | | |
|---|--|---|--|---|--|---|
| Б | | Г | | М | | Т |
|---|--|---|--|---|--|---|



| | | | | | | | |
|--|---|--|---|---|--|---|--|
| | Б | | З | Ь | | Н | |
|--|---|--|---|---|--|---|--|

Alimok.com

2. Расставь буквы в пустые окошки в правильном порядке, чтобы получилось слово, которое ты видишь на картинке.



Alimok.com

3. Каждая буква имеет свой порядковый номер.

Запиши буквы в пустые рамочки в соответствии с числами.

Прочитай слово, которое у тебя получится.

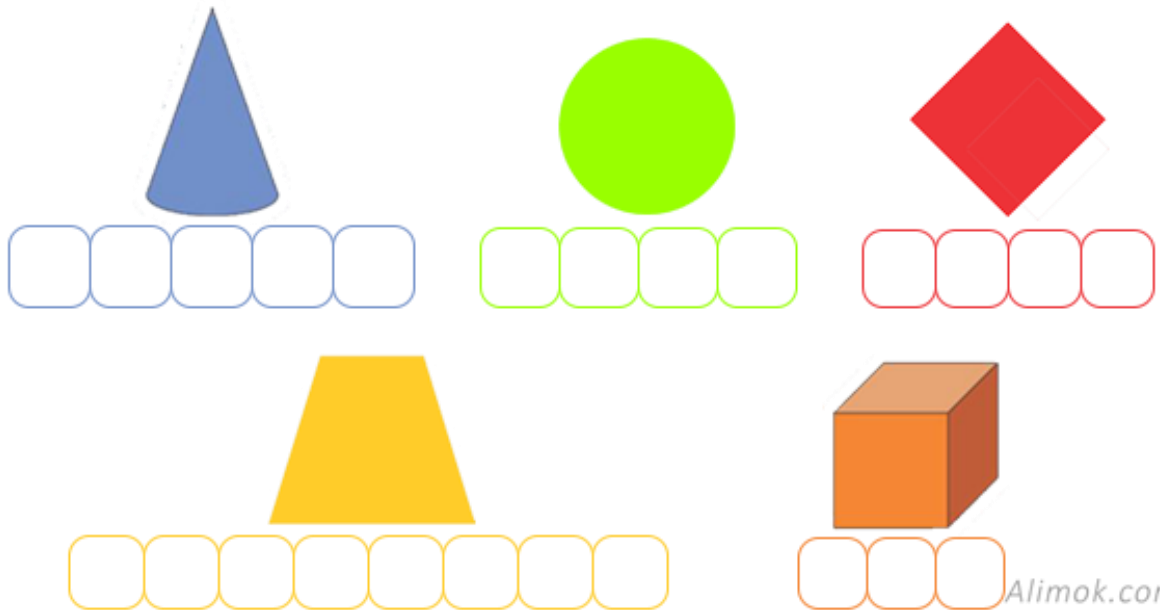


К А М Ш

Alimok.com

Больше заданий на <https://alimok.com/ru/kategoriya/igry-s-bukvami>

4. Определи, в каких геометрических фигурах имеется буква «Р». Запиши названия в пустые окошки и выдели букву «Р» красным цветом.



5. Помоги Алимочку распределить слова по столбикам.

В первый столбик запиши слова с безударной гласной «Е», а во второй столбик – слова с безударной гласной «И».

| слова с безударной гласной «Е» | слова с безударной гласной «И» |
|--------------------------------------|--------------------------------------|
| | |
| | |
| | |



Сл...за; з...ма; в...сло; св...нья; стр...ла; л...сёнок

Alimok.com

Больше заданий на

<https://alimok.com/ru/kategoriya/bezudarnye-glasnye-v-korne-slova-1>

6. Какие слова пишутся с большой буквы? Подчеркни их.



(Г, г) риб



(А, а) лимок



(Ё, ё) лка



(Б, б) уся

Alimok.com

7. Правильно расставь ударения в словах и выбери слова, в которых ударение падает на второй слог.

ВЕСНА

КОМПОТ

ВЕДРО

СОЛНЦЕ

ЛАГЕРЬ

МОСТИК

Alimok.com

Больше заданий на <https://alimok.com/ru/kategoriya/udarenie>

8. Состав из слов предложение.

①

②

③

④

⑤

⑥

_____ .

с пошли Исой Папа рыбу удить

Alimok.com

Больше заданий на <https://alimok.com/ru/kategoriya/predlozhenie>

9. Каким, словом-признаком можно заменить слово-предмет? Возьми в кружочек правильный ответ.

кирпичный дом

деревянный дом



каменный дом

высокий дом

Alimok.com

10. Выбери картинки со словами – омонимами.



Alimok.com

Больше заданий на <https://alimok.com/ru/kategoriya/omonimigramota-1>

11. Как ты думаешь, это текст или **не** текст?

**Наступила осень. Созрели яблоки.
Мама собрала их и принесла Даше.**

Ответ:

Alimok.com

Больше заданий на <https://alimok.com/ru/kategoriya/posledovatelnosti-predlozhenij>

12. Помоги Алимку, найти пару синонимам и антонимам. Соедини их.

- | | |
|------------|---------|
| 1. Мягкий | травя |
| 2. Красный | тёмный |
| 3. Чёрный | штаны |
| 4. Брюки | твёрдый |
| 5. Светлый | алый |
| 6. Зелень | белый |



Alimok.com

Больше заданий на <https://alimok.com/ru/kategoriya/slova-antonymy-sinonimy>

13. Найди предлоги в стихотворении и подчеркни их.




Смoтрит зайнька в окнo -
 За нoчь снeгу намeлo...
 Во двoрe снeговики
 Чинят лыжи и коньки,
 С гoр нeсутся сани...
 - Зайка, eдем с нами!

Alimok.com

Больше заданий на <https://alimok.com/ru/kategoriya/predlogi-gramota>

14. Посмотри внимательно на картинки, правильно запиши их транскрипции и посчитай, сколько букв и звуков в каждом слове.



[]

букв; звуков



[]

букв; звуков

Alimok.com

Больше заданий на <https://alimok.com/ru/kategoriya/foneticheskij-razbor-slova>

15. Определи на картинке одушевлённые предметы и закрась их.



МАТЕМАТИЧЕСКИЙ КРОССВОРД



| | | | | | | |
|----|---|----|---|----|---|--|
| 13 | + | 17 | - | 15 | = | |
| | | + | | + | | |
| | | 18 | | 17 | | |
| | | - | | - | | |
| 31 | + | 11 | - | 22 | = | |
| | | = | | = | | |
| | | | | | | |



| | | | | | | |
|----|---|----|---|----|---|----|
| 18 | + | | + | 11 | = | 38 |
| | | + | | + | | |
| | | 24 | | 27 | | |
| | | - | | - | | |
| 16 | + | 15 | - | | = | 12 |
| | | = | | = | | |
| | | | | 19 | | |



ТВОЙ РЕЗУЛЬТАТ:

Правильные ответы:

Математика _____ Русский язык _____

Неправильные ответы:

Математика _____ Русский язык _____

- *Понравились ли тебе наши задания?*



Да, было интересно.



Нет, не понравились.

*Напишите свой отзыв на нашу почту: support@alimok.com
Ещё больше заданий Вы сможете найти на сайте www.alimok.com
Спасибо, что вы с нами! Мы растём и развиваемся для Вас*