


АЛІМОК

**ТЕСТЫ
"ЛЕТНИЕ КАНИКУЛЫ"**

4 класс



МАТЕМАТИКА

1. Реши пример, и запиши в пустые рамочки соответствующие цифры.

$$\begin{array}{r}
 187 \square \\
 - 16 \\
 \hline
 27 \\
 - \square \\
 \hline
 33 \\
 - 32 \\
 \hline
 \square
 \end{array}
 \quad \Bigg| \quad
 \begin{array}{r}
 8 \\
 234
 \end{array}$$

$$\begin{array}{r}
 605 \square \\
 - 56 \\
 \hline
 45 \\
 - \square \\
 \hline
 37 \\
 - 35 \\
 \hline
 \square
 \end{array}
 \quad \Bigg| \quad
 \begin{array}{r}
 7 \\
 865
 \end{array}$$

Alimok.com

2. Запиши остатки в соответствующие скобки.

$123 : 2 = 61 \text{ (ост. } \square \text{)}$

$368 : 7 = 52 \text{ (ост. } \square \text{)}$

$874 : 4 = 218 \text{ (ост. } \square \text{)}$

$687 : 9 = 76 \text{ (ост. } \square \text{)}$

Alimok.com

1 3
6
5 7
2
0 4

3. Выбери только те числа, которые без остатка делятся на 5.

450	125	180	452
833	225	346	670
140	662	895	234

Alimok.com

Больше заданий на <https://alimok.com/ru/kategoriya/delenie-s-ostatkom>

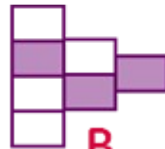
4. Рассмотрни фигуры и выдели в таблице неправильные ответы.




А



Б



В



Г

ФИГУРА	А	Б	В	Г
ЗАКРАШЕНО	$\frac{5}{9}$	$\frac{9}{15}$	$\frac{3}{7}$	$\frac{7}{8}$
НЕ ЗАКРАШЕНО	$\frac{3}{9}$	$\frac{7}{15}$	$\frac{4}{7}$	$\frac{3}{8}$

Alimok.com

5. Помоги Алимочку решить задачу, вписав правильный ответ в пустую рамочку.

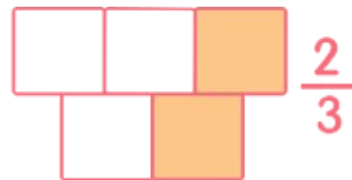


Мальчики поделили между собой поровну наклейки.

Каждый из них получил $\frac{1}{5}$ часть наклеек. Между сколькими мальчиками происходило деление?

Ответ: Наклейки были поделены между мальчиками.

6. Миша получил задание, начертить рисунки к заданным дробям. При выполнении задания он допустил ошибки. Выдели рисунки, которые он нарисовал неправильно.

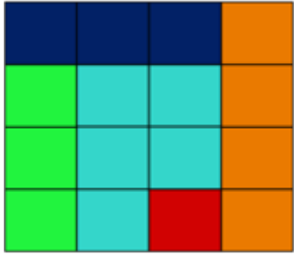


Alimok.com

Больше заданий на

<https://alimok.com/ru/kategoriya/doli-znakomstvo-s-drobyami>

7. По данному рисунку выбери верное высказывание.



доли зелёного и оранжевого цвета равны

самая маленькая доля оранжевого цвета

$\frac{1}{3}$ доля - синего цвета

$\frac{1}{16}$ доля - красного цвета

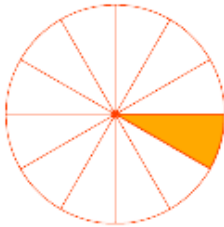
Alimok.com

8. Вадим, Максим и Влад ели одинаковые по размеру пиццы. Каждый из мальчиков съел определённую часть пиццы. Кто из мальчиков съел меньше всех?

Вадим $\frac{1}{8}$



Максим $\frac{1}{12}$



Влад $\frac{1}{10}$



Alimok.com

Ответ: _____.

9. Запиши доли в пустые рамочки в порядке возрастания.

$$\frac{1}{10}$$

$$\frac{1}{7}$$

$$\frac{1}{20}$$

$$\frac{1}{3}$$


$$\frac{1}{11}$$

Alimok.com

Больше заданий на

<https://alimok.com/ru/kategoriya/doli-sravnenie-drobey>

10. На примере пиццы, рассмотри углы, которые образуют недостающие куски. Впиши в пустые рамочки названия видов углов.



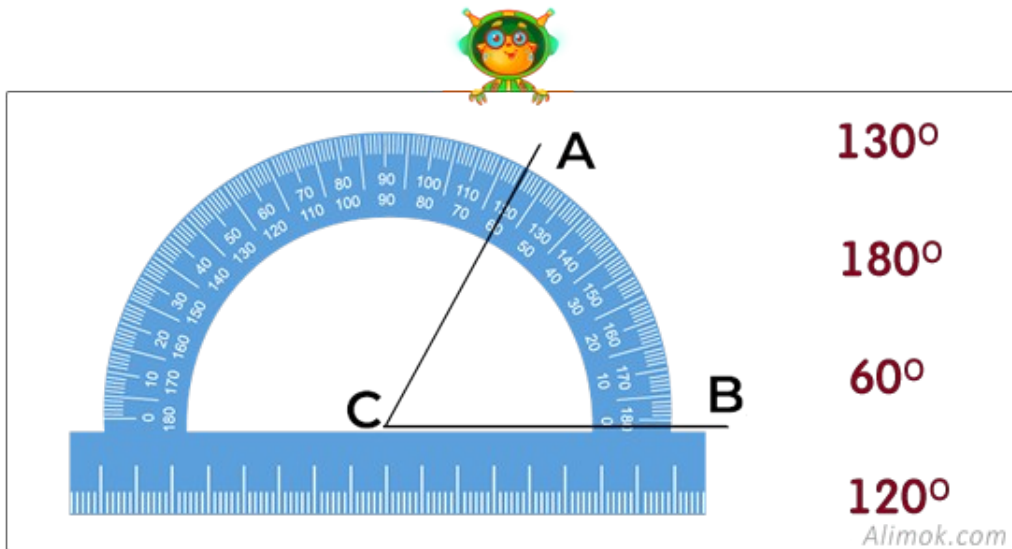
У пиццы под номером 1 угол.

У пиццы под номером 2 угол.

У пиццы под номером 3 угол.

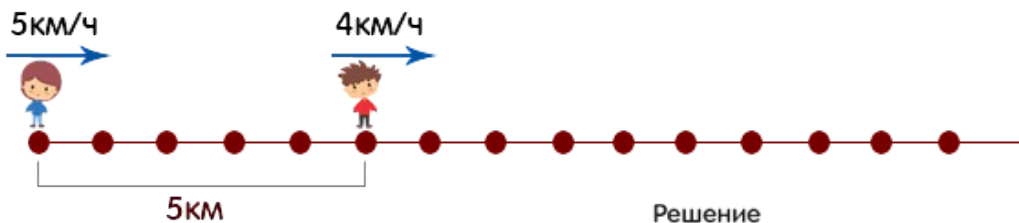
Alimok.com

11. Какая градусная мера у угла $\angle ACB$? Выбери правильный ответ.



Больше заданий на <https://alimok.com/ru/kategoriya/ugol>

12. Реши задачу и выбери на картинке места, где должны оказаться мальчики через 2 часа.




Решение

13. Реши задачу.

Из пункта **A** выплыл корабль и через 2 часа он прибыл в пункт **B**.
Найди расстояние между пунктами, если скорость корабля 40 км/час.

Решение

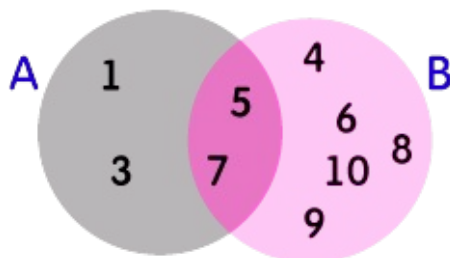


Ответ: км.

Больше заданий на

<https://alimok.com/ru/kategoriya/skorost-vrema-rasstoyaniye>

14. Найди выражения, которые **не** подходят данной схеме.



$$A \cup B = \{5, 7\}$$

$$B \cap A = \{5, 7\}$$

$$1, 3 \notin B$$

$$1, 3 \in A$$

$$5, 6, 8 \in B$$

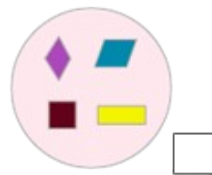
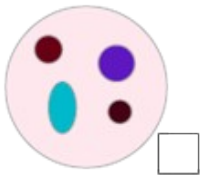
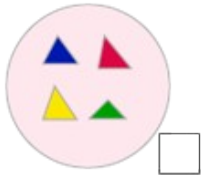

$$A \cap B = \{1, 3\}$$

$$B \cup A = \{1, 3, 5, 7, 4, 6, 8, 9, 10\}$$

15. а) Объедини два множества так, чтобы образовалось множество «Четырёхугольники».


Выбери правильный ответ.

«Четырёхугольники»



Alimok.com

б) Выбери множество, к которому соответствует данное выражение $A \cup C$. Подчеркни правильный ответ.



Alimok.com

РУССКИЙ ЯЗЫК

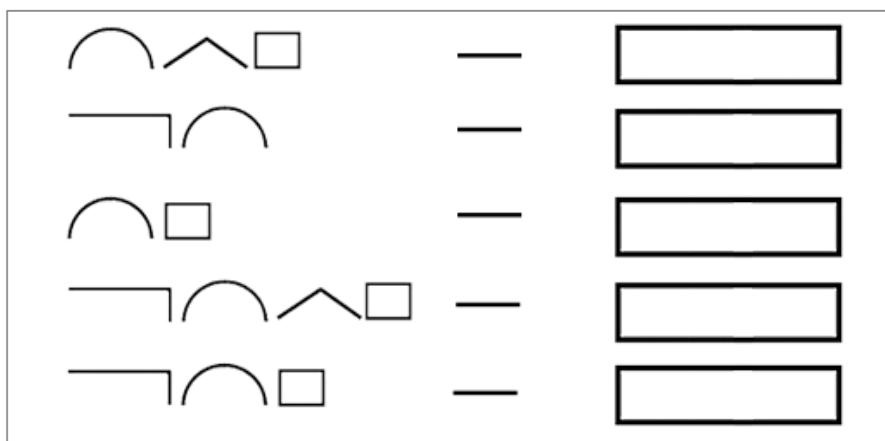
1. Выбери и запиши в пустое окошко печенье с однокоренными словами, которые соответствуют чайнику.



Больше заданий на

<https://alimok.com/ru/kategoriya/rodstvennye-odnokorennye-slova>

2. Соотнеси слова со схемами, записав их в пустые рамочки.



добрый, ручка, залез, походный, безголосый

Больше заданий на <https://alimok.com/ru/kategoriya/sostavslava>

3. Проследи за полётом бабочки, собери все буквы, составь словарное слово. Запиши слово в пустую рамочку, запомни его написание.



Больше заданий на

<https://alimok.com/ru/kategoriya/pravopisanieslovarnixslov>

4. Дополни правило соответствующей концовкой, для этого запиши слова в соответствующие рамочки.

Текст состоит из	
Предложения в тексте связаны	
Текст можно	
Тексту-описанию характерно	
Тексту-рассуждению характерно	
Тексту-сообщению характерно	

сообщать о чём-либо; озаглавить; описывать что-либо; предложений; рассуждать о чём-либо; по смыслу

Больше заданий на

<https://alimok.com/ru/kategoriya/posledovatelnosti-predlozhenij>

5. Найди предложения, которые соответствуют схемам и запишите их.

Осенний лес.

Красив лес в ранние осенние дни. На золотом фоне листвы видны яркие клёны, а жёлтые осинки совсем потерялись. Тихо падают с берёз лёгкие листья, и шелестят под ногами сухая листва.

Чист и прозрачен воздух осенью. Плывут серебристые нити паутины. Ещё зелёный стоит в лесу старый развесистый дуб, но уже оголились вершины берёз.

1. [= -], а [- =].

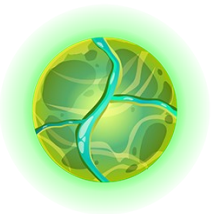
_____.

2. [(=) и (=) _].

_____.

3. [(=) -] но [(=) _].

_____.



Больше заданий на

<https://alimok.com/ru/kategoriya/prostieislojniepredlozheniya>

6. Выдели в стихотворении А.Блока только те союзы, которые выполняют роль связи однородных членов предложения.

А там, в неведомой дали,
Где небо мрачно и зловеще,
Немые грозы с вихрем шли,
Блестя порой зеницей вещей.
Земля немела и ждала,
Прошло глухое рокотанье,
И по деревьям пронесла
Гроза невольное дрожанье....



Больше заданий на <https://alimok.com/ru/kategoriya/soyuz>

7. Собери поговорку (пословицу) сопоставив символам буквы.



к; м; б; ь; я; з; й; р; ы; т; е; п; с; о

Alimok.com

Больше заданий на

<https://alimok.com/ru/kategoriya/poslovici-i-pogovorki>

8. Собери пазл так, чтобы получился фразеологизм. Определи его значение.



Alimok.com


Больше заданий на <https://alimok.com/ru/kategoriya/frazeologizmi-2>

9. Определи части речи и раскрась шарик.

имя существительное – голубым

имя прилагательное – розовым

глагол – зелёным



Alimok.com

10. Вставь подходящие по смыслу слова. Подчеркни имена существительные.



У _____ высокий рост,
 У _____ пушистый хвост,
 У _____ крепки рожки,
 У _____ тонки ножки.
 У _____ толсты губы,
 А у _____ остры зубы.
 Сам придумай про ежа,
 Про ужа и про чижа!

цыплёнок
 слон
 волк
 мартышка
 козлёнок
 лиса

Alimok.com

11. Правильно просклоняй слова по падежам и запиши их в пустые окошки.

АРМИЯ: ПУТЬ

Им. п.

Им. п.

Р. п.

Р. п.

Д. п.

Д. п.

В. п.

В. п.

Т. п.

Т. п.

П. п.

П. п.

12. Найди среди данных слов имена существительные среднего рода и запиши их.

Alimok.com




_____.

Больше заданий на <https://alimok.com/ru/kategoriya/rodimensushestvitelnix>

13. К именам прилагательным подбери и запиши соответствующие имена существительные.

1. острое	–	<input type="text"/>
2. острый	–	<input type="text"/>
3. острая	–	<input type="text"/>
4. сладкий	–	<input type="text"/>
5. сладкое	–	<input type="text"/>

печенье; перец; чай; приправа; блюдо



Больше заданий на <https://alimok.com/ru/kategoriya/rodimenprilagatelnix>

14. Правильно подбери и соедини существительные с глаголами.



солнце



дерево



снег

падает
блестит
растёт
ложится
белеет
печёт
зеленеет
идёт
шумит
согревает

Alimok.com

15. Вместо пропусков употребите подходящие по смыслу наречия.

_____ ночью пошёл дождь. Он _____
стучал в окна, _____ шумел в густой листве
деревьев, _____ журчал в водосточных трубах.
_____ он затихал, и _____ слышно
было, как крупные дождевые капли _____ и
_____ падают в бочку, стоявшую под окном.
_____, как бы набравшись сил, дождь _____
начинал лить густыми потоками. (Л.Лагин)

Слова для вставки: **поздно, потом, весело, иногда, деловито, тогда, солидно, снова, звонко, лихо**



КРОССВОРД



ПО ГОРИЗОНТАЛИ:

1. Водная оболочка Земли.
3. Геометрическая фигура, которую образуют два луча, исходящие из одной точки.
6. Что в математике обозначается строчной буквой «л»?
7. Дополни фразеологизм «как с гуся ...».
8. В этой стране был произведен автомобиль Lamborghini.
11. Компонент деления.
13. Ближайшая к Солнцу планета Солнечной системы.
14. Верхний плодородный слой Земли.
15. Вид спорта, при котором спортсмен спускается на высокой скорости по ледовой трассе на управляемых санях.
17. Человек, стоящий во главе школы.
20. Травоядный динозавр, имеющий панцирь из пластин и булавы на хвосте?

ПО ВЕРТИКАЛИ:

1. Часть суши, возвышающаяся над прилегающими равнинами более чем на 500 метров.
2. Восьмой месяц года.
4. Главный член предложения.
5. Инструмент для измерения и построения углов.
9. Кто исполнял желания в сказке А.С. Пушкина?
10. Как зовут этого персонажа?(рис.1)
12. Поселение, количество домов в котором не превышает несколько десятков.
14. ... Хеопса – одно из чудес света, расположенное в Египте.
16. Столица Англии.
18. Горячий напиток.
19. Как переводится с английского языка слово «umbrella».

ТВОЙ РЕЗУЛЬТАТ:

Правильные ответы:

Математика _____ Русский язык _____

Неправильные ответы:

Математика _____ Русский язык _____

● *Понравилась ли тебе наша задания?*



Да, было интересно.



Нет, не понравились.

Напишите свой отзыв на нашу почту: support@alimok.com

Ещё больше заданий Вы сможете найти на сайте www.alimok.com

Спасибо, что вы с нами! Мы растём и развиваемся для Вас